

Quando a galinha vivia no galinheiro, ela punha todos os dias um ovo.

Se não lhos tirassem, quantos ovos tinha ao fim de :

uma semana?





\_\_\_\_\_

no final deste mês? (consulta o calendário)

\_\_\_\_\_

Discute as informações da tabela com os teus colegas e professor.

Completa as suas informações:

Ovos postos num dia				
1		1+1		
2			2+2+2	
3				3+3+3+3

Se o galinheiro tivesse o número de galinhas da tabela e todas pusessem 1 ovo por dia, quantos ovos haveria por dia?

Resposta: \_\_\_\_\_

Para haver uma dúzia de ovos, quantas galinhas mais teria de haver?

Resposta: \_\_\_\_\_




Para celebrar o salvamento do seu filho, a galinha fez um bolo muito especial.


O bolo tinha um andar por cada filho da galinha.

Quantos andares tinha então o bolo? \_\_\_\_\_


Desenha, de acordo com o texto do livro, os enfeites que a galinha colocou para a avestruz. Completa:



\_\_\_\_\_ berlindes



\_\_\_\_\_ martelo



\_\_\_\_\_ pregos

Para o crocodilo ela colocou uma dúzia de peixes.

Quantos peixes pôs a galinha no bolo? \_\_\_\_\_

Para a serpente a galinha pôs meia dúzia de ratos. Desenha-os:



Depois achou que ela ia ficar com fome e decidiu que era melhor colocar uma dezena. Quantos ratos teve ela de pôr a mais? \_\_\_\_\_ .


Consulta a tabela e descobre que frutos e que quantidades de cada um ela pôs para o papagaio:

Frutos	Quantidade	Total
uvas	3 cachos com 10 uvas cada	
cerejas	6 pares	
maçãs	meia dezena	
ameixas	uma dezena e meia	
romãs	um par	

Consegues saber quantos frutos ao todo comeu o papagaio?



O pinto comeu milho. Faz grupinhos de 10 bagos e completa o ábaco para saberes quantos bagos de milho comeu o pinto.



D	U

